

Школьный этап олимпиады по географии

+ 225
+ 13

7 класс Теоретический тур

W 355

55 Задание 1

Определите с помощью атласа по географическим координатам вершины крупных горных систем нашей планеты:

- 1) 28° с. ш. 87° в. д. ^{0,5} Джомолунгма (Эверест) - ^{0,5} Гималаи (Китай) ^{0,5} (8848 м)
- 1) 2) 36° ю. ш. 148° в. д. ^{0,5} Косцюшко - ^{0,5} Большой Водораздел ^{0,5} (Австралия) ^{0,5} (2228 м)
- 1) 3) 33° ю. ш. 70° з. д. ^{0,5} Аконкагуа - ^{0,5} Анды (6960 м) - ^{0,5} (Анды, Боливия, Чили, Аргентина)
- 1) 4) 65° с. ш. 60° в. д. ^{0,5} Уральские горы - ^{0,5} г. Народная (1895 м) - ^{0,5} (Россия) ^{0,5}
- 1) 5) 31° с. ш. 7° з. д. ^{0,5} Атлас - ^{0,5} г. Тубкаль (4165 м) - ^{0,5} (Марокко) ^{0,5}

Напишите:

- 1. названия вершин и горных систем, в которых они расположены;
- 2. определите абсолютную высоту вершин.
- 3. на территории какого государства расположены вершины этих гор

35 Задание 2

Этот пролив, являющийся мировым рекордсменом сразу по нескольким номинациям, назван по имени англичанина - руководителя второй кругосветки, который собственно и проплыл по проливу первым из европейцев. Для пролива типичны частые шторма. пролив Дрейка 1

Назовите пролив, укажите океаны он соединяет, какие материки разъединяет. Тихий и Атлантический; Антарктиду и Южн. Америку 1

Назовите, в каких номинациях пролив является рекордсменом, объясните, почему там бывают самые частые и сильные ветра. Потому что там есть холодные и теплые течения, частые ветры - западные 1

88 Задание 3

Этот объект - крупнейший на Земле замкнутый водоем, расположенный в двух частях света. Его воды омывают берега 5 стран. В водоём впадает 130 рек, в том числе и одна из крупнейших рек Европы. Много веков назад

водоем называли Хвалынским морем, Дербентским морем. Северная часть водоема зимой покрыта льдом, в то время как южная остается незамерзающей.

Назовите объект, о котором идет речь в тексте. Укажите название стран. Как называется крупнейшая река Европы, впадающая в водоем. Какой тип устья характерен для этой реки.

Каспийское море; Россия, Казахстан, Азербайджан, Иран, Грузия; Волга; дельта.



Задание 4

О каких видах атмосферных осадков говорится в следующих литературных отрывках и загадках?

1. Огородные грядки были посыпаны крупной солью мороза.
(К.Г. Паустовский) Траг
2. Когда в солнечное утро летом пойдешь в лес, то на полях в траве видны алмазы.
(Л.Н. Толстой) Роса
3. Грянул гром неожиданно, наобум —
Яростный удар и гул протяжный.
А потом пронесся легкий шум,

Торопливый, радостный и влажный.

1. (С.Я. Маршак) грозовой Дождь, либень

4. И вот сентябрь! И вечер года к нам
Подходит. На поля и горы
Уже мороз бросает по утрам
1 Свои серебристые узоры.

(Е.А. Баратынский) Иней

Задание 5

Маша решила рассказать своей подруге, проживающей в столице России о наиболее интересных объектах на территории Хабаровского края, вошедших в проект «7 чудес Хабаровского края» Назовите эти объекты и главные особенности, по которым их включили в этот проект.

Орлова Настя

**Всероссийская олимпиада школьников по географии
школьный этап 2019-2020**

Часть 1

Тестовые задания

7 класс

135

1. Что нужно сделать для того, чтобы отпраздновать Новый год второй раз за сутки?

- А) Пересечь нулевой меридиан с запада на восток;
- Б) Пересечь нулевой меридиан с востока на запад;
- В) Пересечь экватор с севера на юг по линии перемены дат;
- Г) Пересечь экватор с юга на север по линии перемены дат;

2. Какой из нижеуказанных архипелагов посещал Фернандо Магеллан?

- А) Алеутские острова;
- Б) Багамские острова;
- В) острова Галапагос;
- Г) Марианские острова;

3. Какое средство Джеймс Кук стал использовать против цинги на своих судах?

- А) квашеную капусту
- Б) доброе слово
- В) яблоки
- Г) индийские пряности

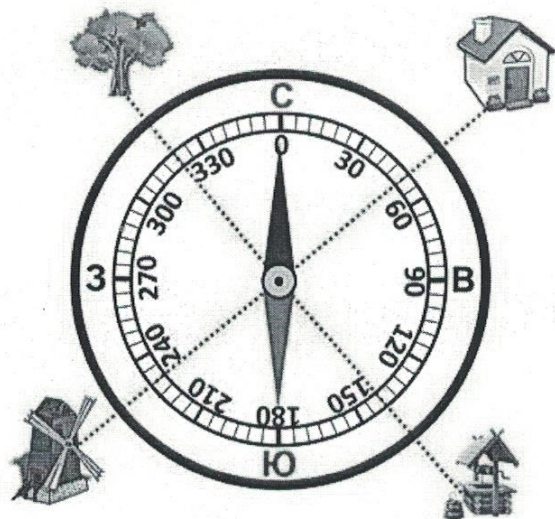
4. Определите океан по описанию: «Площадь 91,6 млн. кв. км, из которых около четверти приходится на внутриконтинентальные моря. Площадь прибрежных морей невелика и не превышает 1% от общей площади. Объем океана - это 25% от объема Мирового океана. Средняя глубина 3736 м, наибольшая - 8742 (желоб Пуэрто-Рико). Среднегодовая соленость вод океана составляет около 35‰».

- А) Атлантический
- Б) Северный Ледовитый
- В) Индийский
- Г) Тихий

5. Этот материк расположен в западном и восточном полушариях был открыт русскими мореплавателями самым последним в 1820 г.. О каком материке идет речь?

- А) Африка
- Б) Антарктида
- В) Евразия
- Г) Австралия

6. Соотнесите нарисованный объект с его азимутом:



- | | |
|-------------|---------|
| 1) Домик | А - 230 |
| 2) Колодец | Б - 50 |
| 3) Мельница | В - 320 |
| 4) Дерево | Г - 140 |

7. Выбери лишнее, свой выбор объясни.

- 1) Фернандо Магеллан
- 2) Христофор Колумб
- 3) Джеймс Кук
- 4) И.Ф. Крузенштерн

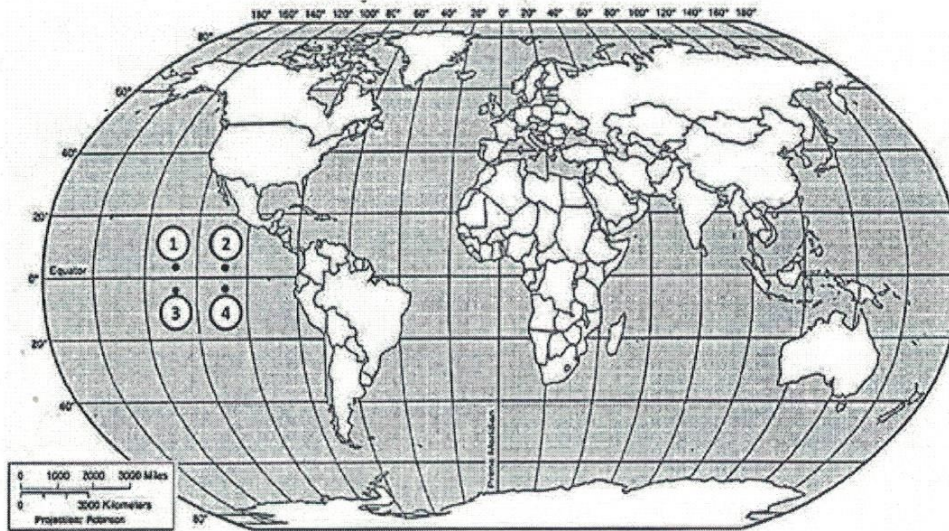
8. Выберите путешественника, который не исследовал территорию Хабаровского края:

- 1) А) Е.П. Хабаров Б) Н.М. Пржевальский В) В.К. Арсеньев Г) Н. И. Вавилов

9. Какое место по площади занимает Хабаровский край в России?

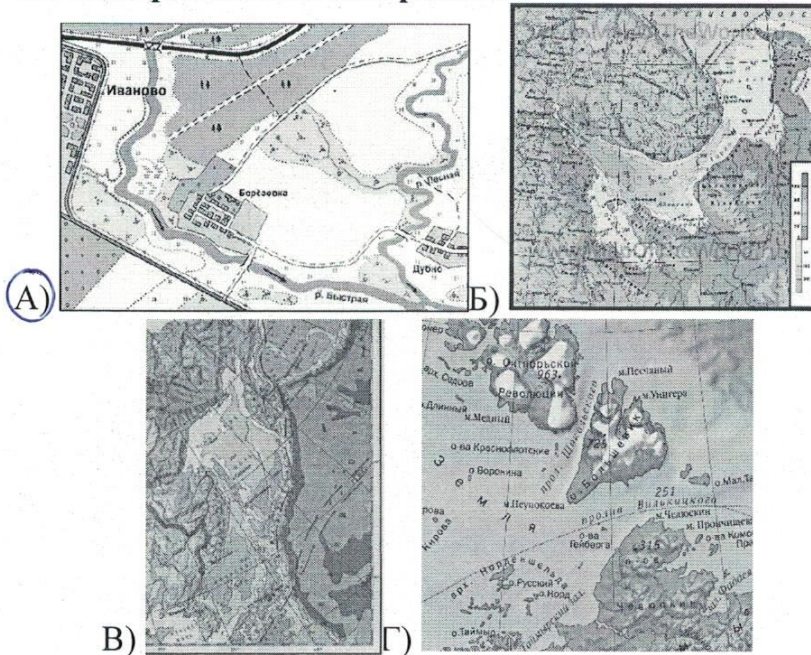
- А) 1 Б) 2 В) 3 Г) 4

10. Какая из обозначенных на карте мира точек имеет географические координаты 5° с. ш. и 110° з. д.?



- 1) А
- 2) Б
- 3) В
- 4) Г

11. Выбери лишнее изображение



А)

Б)

В)

Г)

12. Соотнесите названия стран и характерные для них особенности территории или географического положения.

- | | |
|--------------------------------------|--------------|
| А) «страна-материк» | 1. Австралия |
| Б) «карликовое государство» | 2. Монако |
| В) островное государство | 3. Монголия |
| Г) внутриконтинентальное государство | 4. Филиппины |
| 5. Франция | |

A-1, B-2, B-4, G-5

13. Найдите соответствие

ПОНЯТИЯ

1. Параллель
2. Берг-штрихи
3. Абсолютная высота
4. Географическая карта

ОПРЕДЕЛЕНИЯ


- А) Неровности земной поверхности
- Б) Это условно проведенная линия по земной поверхности параллельная линии экватора
- В) Это уменьшенное изображение земной поверхности на плоскости при помощи условных знаков
- Г) Это превышение точки земной поверхности над уровнем моря
- Д) Линии, показывающие направление склонов

Ответ:

1	2	3	4	5
Б	Д	Г	В	А

14. В мультфильме «Зима в Простоквашино» машина Дяди Федора застряла в яме. А как такую форму рельефа показывают на топографических картах?

А)



Б)

15. Какой остров отделяется от материка проливом Г.И. Невельского?

- 1) Мадагаскар
- 2) Врангеля
- 3) Сахалин
- 4) Русский