

Марианна Луккина

### Школьный этап олимпиады по географии

7 класс Теоретический тур

30,55  
+ 14,5  
-----  
44,55

7,55

#### Задание 1

Определите с помощью атласа по географическим координатам вершины крупных горных систем нашей планеты:

- 1) 28° с. ш. 87° в.д. - *Вулкан - Мунга - Лоа 4170* *Гонимуну 2228* *Космунско 2228* *Эверест 2924* *Анnapcна 2924*
- 2) 36° ю. ш. 148° в.д. - *Анды* *горы* *Аконкагуа 5960* *Тельму* *Кревет* *Анды*
- 3) 33° ю. ш. 70° з. д. - *Уральские горы* *1895* *Российская федерация* *Анды*
- 4) 65° с. ш. 60° в. д. - *Анды* *4165* *Мауна-Кеа*
- 5) 31° с. ш. 7° з. д. - *Анды* *4165* *Мауна-Кеа*

Напишите:

1. названия вершин и горных систем, в которых они расположены;
2. определите абсолютную высоту вершин.
3. на территории какого государства расположены вершины этих гор

3,5

#### Задание 2

Этот пролив, являющийся мировым рекордсменом сразу по нескольким номинациям, назван по имени англичанина - руководителя второй кругосветки, который собственно и проплыл по проливу первым из европейцев. Для пролива типичны частые шторма.

Назовите пролив, укажите океаны он соединяет, какие материки разъединяет.

Назовите, в каких номинациях пролив является рекордсменом, объясните, почему там бывают самые частые и сильные ветра

*15* Пролив Дрейка соединяет Тихий и Атлантический океаны.  
*15* Самый сильный штормовой ветер в мире.  
*15* Самый длинный пролив.

9,5

#### Задание 3

Этот объект - крупнейший на Земле замкнутый водоем, расположенный в двух частях света. Его воды омывают берега 5 стран. В водоём впадает 130 рек, в том числе и одна из крупнейших рек Европы. Много веков назад

водоем называли Хвалынским морем, Дербентским морем. Северная часть водоема зимой покрыта льдом, в то время как южная остается незамерзающей.

Назовите объект, о котором идет речь в тексте. Укажите название стран. Как называется крупнейшая река Европы, впадающая в водоем. Какой тип устья характерен для этой реки.



Каспийское море  
Иран, Азербайджан, Грузия, Туркменистан  
Россия, Украина

36

#### Задание 4

О каких видах атмосферных осадков говорится в следующих литературных отрывках и загадках?

1. Огородные грядки были посыпаны крупной солью мороза.  
(К.Г. Паустовский) *Иней*
2. Когда в солнечное утро летом пойдешь в лес, то на полях в траве видны алмазы.  
(Л.Н. Толстой) *роса*
3. Грянул гром неожиданно, наобум —  
Яростный удар и гул протяжный.  
А потом пронесся легкий шум,

Торопливый, радостный и влажный.  
(С.Я. Маршак)

*декабрь*

4. И вот сентябрь! И вечер года к нам  
Подходит. На поля и горы  
Уже мороз бросает по утрам  
Свои серебристые узоры.  
(Е.А. Баратынский)

*Сентябрь*

88

### Задание 5

Маша решила рассказать своей подруге, проживающей в столице России о наиболее интересных объектах на территории Хабаровского края, вошедших в проект «7 чудес Хабаровского края» Назовите эти объекты и главные особенности, по которым их включили в этот проект.

- Горный хребет Дуссе - Азия 1600 м орография отвесные скалы, высочайший 300 м.
- Амурский тундр - самый крупный питомник семейства кошачьих. Масса 300-350 кг.
- Лотос Каварова - 150 м еще 100 миллионов лет назад
- Ивановские острова - расположены в Тугуро-Чумкочкамурском
- Петроглифы Сисоки - Азия - памятник древнего каменного искусства.
- Озеро Амур - как бы называлось местными
- Мост через Амур - получил медаль Парижской выставки за конструкцию

Всероссийская олимпиада школьников по географии  
школьный этап 2019-2020

Часть 1

Тестовые задания

7 класс

148

1. Что нужно сделать для того, чтобы отпраздновать Новый год второй раз за сутки?

- А) Пересечь нулевой меридиан с запада на восток;
- Б) Пересечь нулевой меридиан с востока на запад;
- В) Пересечь экватор с севера на юг по линии перемены дат;
- Г) Пересечь экватор с юга на север по линии перемены дат;

2. Какой из нижеуказанных архипелагов посещал Фернандо Магеллан?

- А) Алеутские острова;
- Б) Багамские острова;
- В) острова Галапагос;
- Г) Марианские острова;

3. Какое средство Джеймс Кук стал использовать против цинги на своих судах?

- А) квашеную капусту
- Б) доброе слово
- В) яблоки
- Г) индийские пряности

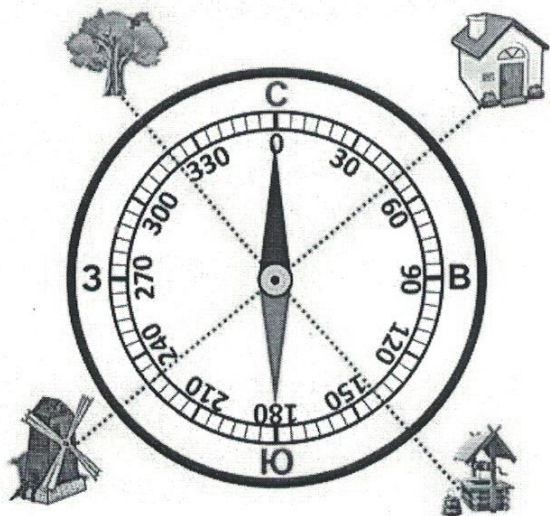
4. Определите океан по описанию: «Площадь 91,6 млн. кв. км, из которых около четверти приходится на внутриконтинентальные моря. Площадь прибрежных морей невелика и не превышает 1% от общей площади. Объем океана - это 25% от объема Мирового океана. Средняя глубина 3736 м, наибольшая - 8742 (желоб Пуэрто-Рико). Среднегодовая соленость вод океана составляет около 35‰».

- А) Атлантический
- Б) Северный Ледовитый
- В) Индийский
- Г) Тихий

5. Этот материк расположен в западном и восточном полушариях был открыт русскими мореплавателями самым последним в 1820 г.. О каком материке идет речь?

- А) Африка
- Б) Антарктида
- В) Евразия
- Г) Австралия

6. Соотнесите нарисованный объект с его азимутом:



- |             |         |
|-------------|---------|
| 1) Домик    | А - 230 |
| 2) Колодец  | Б - 50  |
| 3) Мельница | В - 320 |
| 4) Дерево   | Г - 140 |

7. Выбери лишнее, свой выбор объясни.

- 1) Фернандо Магеллан
- 2) Христофор Колумб
- 3) Джеймс Кук
- 4) И.Ф. Крузенштерн

*он открыл Америку, а остальные совершали кругосветные путешествия.*

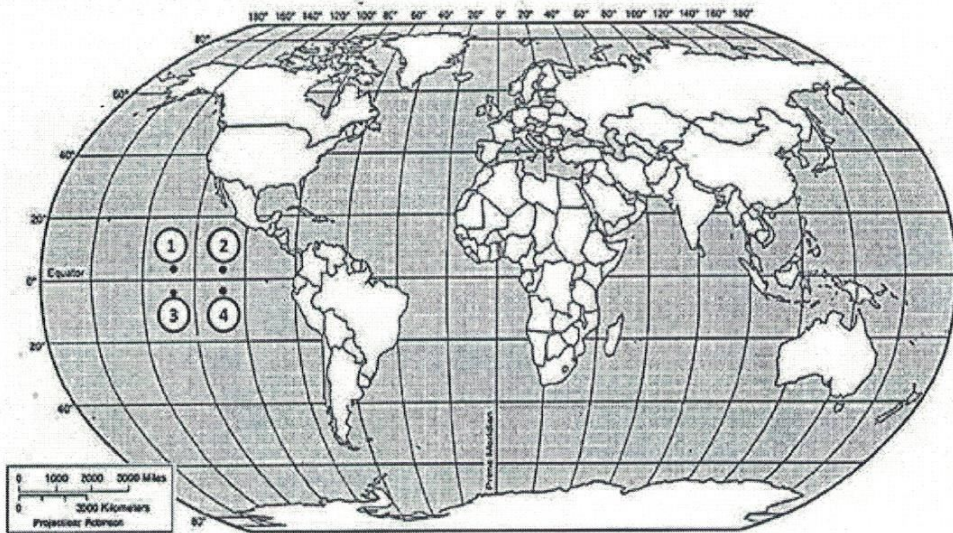
8. Выберите путешественника, который не исследовал территорию Хабаровского края:

- 1)  А) Е.П. Хабаров  Б) Н.М. Пржевальский В) В.К. Арсеньев Г) Н. И. Вавилов

9. Какое место по площади занимает Хабаровский край в России?

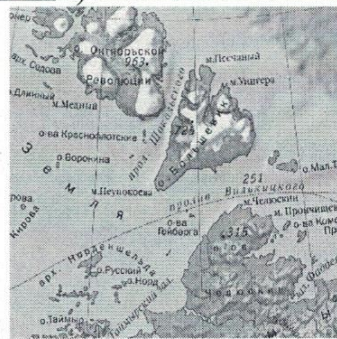
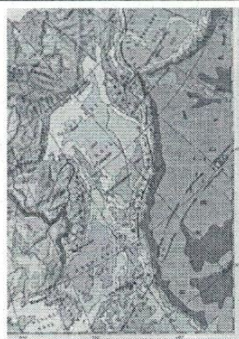
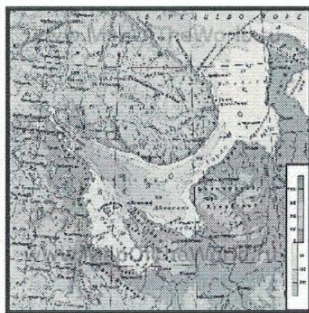
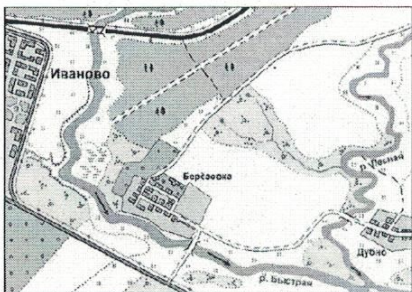
- 1) А) 1 Б) 2 В) 3  Г) 4

10. Какая из обозначенных на карте мира точек имеет географические координаты 5° с. ш. и 110° з. д.?



- 1) А
- 2) Б
- 3) В
- 4) Г

**11. Выбери лишнее изображение**



**12. Соотнесите названия стран и характерные для них особенности территории или географического положения.**

- А) «страна-материк» — 1. Австралия
- Б) «карликовое государство» — 2. Монако
- В) островное государство — 3. Монголия
- Г) внутриконтинентальное государство — 4. Филиппины
- 5. Франция

**13. Найдите соответствие**

**ПОНЯТИЯ**

- 1. Параллель
- 2. Берг-штрихи
- 3. Абсолютная высота
- 4. Географическая карта

**ОПРЕДЕЛЕНИЯ**

- А) Неровности земной поверхности
- Б) Это условно проведенная линия по земной поверхности параллельная линии экватора
- В) Это уменьшенное изображение земной поверхности на плоскости при помощи условных знаков
- Г) Это превышение точки земной поверхности над уровнем моря
- Д) Линии, показывающие направление склонов


Ответ:

1	2	3	4	5
d	A	2	8	

14. В мультфильме «Зима в Простоквашино» машина Дяди Федора застряла в яме. А как такую форму рельефа показывают на топографических картах?

А)

Б)



15. Какой остров отделяется от материка проливом Г.И. Невельского?

- 1) Мадагаскар
- 2) Врангеля
- 3) Сахалин
- 4) Русский