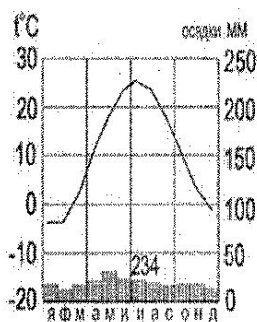


7 класс

Тестовый тур

1. Наука, изучающая природу земной поверхности, называется
 - а) лимнология, б) биология, в) физическая география, г) геология.
2. Модель, уменьшенная копия Земли, - это:
 - а) аэрофотоснимок, б) план местности, в) глобус, г) географическая карта.
3. Антарктиду открыл:
 - а) Юрий Лисянский, б) Иван Крузенштерн, в) Фаддей Беллинсгаузен, г) Руаль Амундсен.
4. Самым верхним слоем материковой земной коры является:
 - а) базальтовый б) осадочный в) гранитный г) кварцевый
5. Горная порода метаморфического происхождения – это:
 - а) глина, б) мрамор, в) известняк, г) гранит
6. Используя данные климатограммы, определите верное утверждение:



- а) Среднегодовое количество атмосферных осадков составляет менее 200 мм
 - б) Температуры воздуха в декабре выше, чем в мае;
 - в) Максимальное количество атмосферных осадков приходится на сентябрь
 - г) В течение всего года температура воздуха не опускалась ниже -5°C ;
7. По радио передали: «Влажность воздуха в городе составляет 55%». О чем идет речь?
 - а) об абсолютной влажности,
 - б) об относительной влажности,
 - в) абсолютной и относительной влажности,
 - г) о повышении давления.
 8. Самый жаркий материк - это
 - а) Африка б) Австралия в) Южная Америка г) Антарктида
 9. Самый крупный масштаб – это:
 - а) 1:10 000
 - б) 1:25 000
 - в) 1:40 000
 - г) 1:250 000
 10. Материки, которые пересекаются экватором, - это:
 - а) Африка и Южная Америка б) Антарктида и Евразия в) Евразия и Африка г) Южная Америка и Евразия
 11. Корабль, на котором было совершено первое кругосветное путешествие – это:
 - а) «Золотая лань» б) «Надежда» в) «Санта-Мария» г) «Виктория»
 12. Выберите верную пару:
 - а) Гималаи - Эверест, б) Альпы – Белуха,
 - в) Кавказ - Народная, г) Анды – Эверест.

13. Самый глубокий океан:

- 1 а) Северный Ледовитый б) Тихий в) Атлантический г) Индийский

14. Страна-рекордсмен по численности населения мира:

- 1 а) Индия б) Россия в) США г) Китай

15. Какой из указанных островов самый крупный?

- 1 а) Сахалин б) Мадагаскар, в) Гренландия, г) Шри-Ланка

135

Аналитический тур

Задание №1. Прочитайте отрывок, ответьте на предложенные вопросы:



Зимой материк бывает более холодный и, следовательно, давление над ним более высокое, чем над океаном. И воздушные массы, как известно, перемещаются из областей с высоким давлением в области с пониженным давлением. В переводе с арабского языка это ветер называется «Сезон».

2

1. О каком ветре идет речь? *Сеулусон*
2. В каких районах страны мы можем наблюдать эти ветры? *В районах с высоким давлением.*
3. В чем проявляется их влияние на климат? *Ветер приносит осадки*




Задание №2. Заполнить таблицу. Соотнести: название прибора (барометр, гигрометр, осадкомер, флюгер, эхолот); единица измерения (баллы, метр, миллиметр, миллиметр ртутного столба, процент). Укажите что определяют приведенные в таблице приборы.

5,5

Фотография прибора	Название прибора	Единицы измерения	Что определяет?
	<i>Осадкомер</i> осадкомер	<i>метр</i> <i>миллиметр</i>	<i>ос</i>
	<i>Барометр</i>	<i>процент</i>	<i>Атмосферное давление</i>

1,5

1

	Осадкомер	Миллиметр ртутного столба	Сколько осадков вошло	
	Флюгер 0,5	Балл мер 0,5	Скорость направление, силу ветра 0,5	1,5
	Эхолот 0,5	Метр метр 0,5	Звук под водой, глубину 0,5	1,5

Задание №3. Выберите из перечисленных названий стран те страны, название которых совпадают с названиями их столиц.

4 Китай, ^{0,5} Алжир, Индия, Великобритания, ^{0,5} Панама, США, Франция, ^{0,5} Тунис, ^{0,5} Бразилия, Польша.

Укажите страну, по территории которой проложен канал, соединяющий два океана.

Назовите эти океаны. ~~Тихий~~, Тихий океан, и Атлантический океан

Задание №4. Этот мореплавец португалец по происхождению, но сменил подданство на испанское. Его экспедиция совершила первое кругосветное плавание. В 1519-1521 гг. он руководил испанской экспедицией по поиску западного пути к Молуккским островам. Первым пересёк Тихий океан, достиг Филиппинских островов, где погиб в схватке с местными жителями. Плавание завершил другой капитан, его помощник, который, затем на своём фамильном гербе изобразивший Землю и подписавший: «Я тот, кто тебя обогнул».

Кто эти путешественники? Какие географические объекты носят имя первого мореплавателя?

Задание №5. Третью часть материка занимают пустыни, одна из них является крупнейшей в мире, её площадь около 8 млн км². Назовите пустыню. О каком материке идёт речь? Перечислите ещё 5 пустынь этого материка. Что такое эрги и гамалы?

2

Африка, пустыни Сахара

13,5

Итого: 13 + 13,5 = 26,5