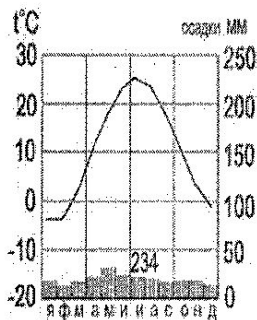


Школьный этап Всероссийской олимпиады школьников по географии

7 класс

Тестовый тур

1. Наука, изучающая природу земной поверхности, называется
а) лимнология, б) биология, **в) физическая география**, г) геология.
2. Модель, уменьшенная копия Земли, - это:
а) аэрофотоснимок, б) план местности, **в) глобус**, г) географическая карта.
3. Антарктиду открыл:
а) Юрий Лисянский, **б) Иван Крузенштерн**, **в) Фаддей Беллинсгаузен**, г) Руаль Амундсен.
4. Самым верхним слоем материковой земной коры является:
а) базальтовый **б) осадочный** в) гранитный г) кварцевый
5. Горная порода метаморфического происхождения – это:
а) глина, б) мрамор, **в) известняк**, г) гранит
6. Используя данные климатограммы, определите верное утверждение:



- а) Среднегодовое количество атмосферных осадков составляет менее 200 мм
 - б) Температуры воздуха в декабре выше, чем в мае;
 - в) Максимальное количество атмосферных осадков приходится на сентябрь
 - г) В течение всего года температура воздуха не опускалась ниже -5°C ;
7. По радио передали: «Влажность воздуха в городе составляет 55%». О чем идет речь?
а) об абсолютной влажности,
б) об относительной влажности,
в) абсолютной и относительной влажности,
г) о повышении давления.
 8. Самый жаркий материк - это
а) Африка б) Австралия в) Южная Америка, г) Антарктида
 9. Самый крупный масштаб – это:
а) 1:10 000
б) 1:25 000
в) 1:40 000
г) 1:250 000
 10. Материки, которые пересекаются экватором, - это:
а) Африка и Южная Америка б) Антарктида и Евразия в) Евразия и Африка г) Южная Америка и Евразия
 11. Корабль, на котором было совершено первое кругосветное путешествие – это:
а) «Золотая лань» б) «Надежда» **в) «Санта-Мария»** г) «Виктория»
 12. Выберите верную пару:
а) Гималаи - Эверест, б) Альпы – Белуха,
в) Кавказ - Народная, г) Анды – Эверест.

13. Самый глубокий океан:

- а) Северный Ледовитый б) Тихий в) Атлантический г) Индийский

14. Страна-рекордмен по численности населения мира:

- а) Индия б) Россия в) США г) Китай

15. Какой из указанных островов самый крупный?

- а) Сахалин б) Мадагаскар в) Гренландия г) Шри-Ланка

135



Аналитический тур

Задание №1. Прочитайте отрывок, ответьте на предложенные вопросы:

Зимой материк бывает более холодный и, следовательно, давление над ним более высокое, чем над океаном. И воздушные массы, как известно, перемещаются из областей с высоким давлением в области с пониженным давлением. В переводе с арабского языка это ветер называется «Сезон».




1. О каком ветре идет речь? *Муссонные ветры*
 2. В каких районах страны мы можем наблюдать эти ветры? *По всей стране*
 3. В чем проявляется их влияние на климат? *Образуют осадки*

Задание №2. Заполнить таблицу. Соотнести: название прибора (барометр, гигрометр, осадкомер, флюгер, эхолот); единица измерения (балл, метр, миллиметр, миллиметр ртутного столба, процент). Укажите что определяют приведенные в таблице приборы.

Фотография прибора	Название прибора	Единицы измерения	Что определяет?
	Флюгер Гигрометр	метры в секунду процент	Скорость и направление ветра Влажность воздуха
	Барометр (Анероид) 0,5	миллиметр ртутного столба 0,5	Атмосферное давление 0,5

и, б

1,5

	Осаднoметр	миллиметр	колво осадков
	Флюгер	балл	Направление ветра и его скорость
	Эхолот	метр	глубину

Задание №3. Выберите из перечисленных названий стран те страны, название которых совпадают с названиями их столиц. 2

проложен канал, соединяющий Тихий 1

4

Китай, Алжир, Индия, Великобритания, Панама, США, Франция, Тунис, Бразилия, Польша. и Атлантически океаны 1

Укажите страну, по территории которой проложен канал, соединяющий два океана.
Назовите эти океаны.

Задание №4. Этот мореплаватель португалец по происхождению, но сменил подданство на испанское. Его экспедиция совершила первое кругосветное плавание. В 1519-1521 гг. он руководил испанской экспедицией по поиску западного пути к Молуккским островам. Первым пересёк Тихий океан, достиг Филиппинских островов, где погиб в схватке с местными жителями. Плавание завершил другой капитан, его помощник, который, затем на своём фамильном гербе изобразивший Землю и подписавший: «Я тот, кто тебя обогнул». Фернан Магеллан 1

2

Кто эти путешественники? Какие географические объекты носят имя первого мореплавателя?
Магеланов пролив 1

Задание №5. Третью часть материка занимают пустыни, одна из них является крупнейшей в мире, её площадь около 8 млн км². Назовите пустыню. О каком материке идёт речь? Перечислите ещё 5 пустынь этого материка. Что такое эрги и гаммады?

2 Сахара¹ - самая крупная пустыня мира, находится на материке Африка

14,55

Итого: $13 + 14,5 = 27,55$.